

一、计算乐园。

1. 直接写出得数。

$$\begin{array}{lll} 5 \times 8 = & 30 \div 6 = & 6 \times 2 = \\ 24 \div 3 = & 5 \times 5 = & 27 \div 9 = \\ 6 \times 8 = & 49 \div 7 = & 7 \times 6 = \\ 72 \div 9 = & 4 \times 9 = & 32 \div 4 = \end{array}$$

2. 用竖式计算。

$$7 \times 8 = \quad 81 \div 9 =$$

$$75 - 27 + 36 = \quad 42 + 15 + 38 =$$

二、认真填写。

- $4 \times 6 = (\quad)$, 读作(), 4 和 6 都叫做(), 24 叫做它们的()。
- 把 $8 + 8 + 8 + 8$ 改写成乘法算式是()。
- 一个角有()条边和()个顶点。
- 一个乘数是 4, 另一个乘数是 5, 积是(); 被除数和除数都是 7, 商是()。
- 72 是 9 的()倍, 8 的 5 倍是()。
- 找规律。
6, 12, 18, 24, (), (), 42, 48
- ()里最大能填几?
() $\times 8 < 42$
 $60 > 7 \times (\quad)$
- 计算 $90 - 32 + 19$ 时, 应先算(); 计算 $100 - (29 + 32)$ 时, 应先算()。

9. 根据一句口诀写两道乘法 and 两道除法算式。

六八四十八

() ()
() ()

10. 计算 $72 \div 9 = (\quad)$ 时, 想:
() 九七十二。

11. () 点整和() 点整时, 钟面上的时针和分针成直角。

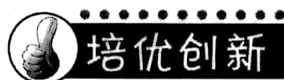
三、找规律画一画。

1. $\triangle \square \square \triangle \square \square$ _____


2. $\bigcirc \star \bigcirc \bigcirc \star \bigcirc$ _____

四、动手操作。

以下面的点为顶点画一个钝角, 并标出这个角各部分的名称。



五、下面四幅图分别是谁看到的?



亮亮 明明 芳芳 红红



六、统计。



1. 用画“正”字的方法统计各种交通工具的数量。

2. 根据上面整理的数据完成下面的统计表。

交通工具			
数量	() 条	() 架	() 辆

3. 把上面整理的数据用不同颜色的色块表示出来。

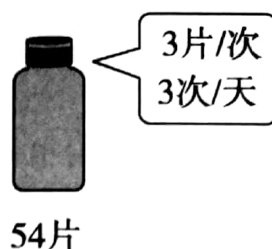
4. () 最多, () 最少。

七、解决问题。

1. 赵老师为班里的图书角买了语文、数学、英语复习资料各 9 本。赵老师一共买了多少本复习资料?

2. 红星工厂男职工有 57 人, 女职工比男职工少 18 人, 男职工和女职工一共有多少人?

3. 小红感冒了, 医生给她开了一瓶药。



(1) 她每天应该吃几片药?

(2) 这瓶药够她吃几天?

4. 摘葡萄。



(1) 小亮摘了多少串葡萄?

(2) 爸爸摘的葡萄的串数是小佳的几倍?

